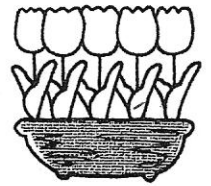



5月27日 (おて)



ひょうとグラフ③

なまえ

☆ そだててみたい やさいの カードを, 1人 1つずつ えらんで, 黒ばんに はりました。



① それぞれの やさいを えらんだ 人数を, ひょうに かきましょう。

そだてたいやさい	トマト	きゅうり	なす	とうもろこし	すいか	さつまいも
人数 (人)						

② 人数を, ○を つかって, 右の グラフに あらわしましょう。

③ 人数が いちばん おおい やさいは どれですか。

また なん人ですか。

( )で( )人

④ とうもろこしを えらんだ 人は, なすを えらんだ 人より なん人 おおいですか。

( )人 おおい。


そだてたい やさい

トマト	きゅうり	なす	とうもろこし	すいか	さつまいも


5月27日(うら)

# ひょうとグラフ④

なまえ



☆ どうぶつえんに いる すきな どうぶつの カードを、  
1人 1つずつ えらんで、黒ばんに はりました。



① それぞれの どうぶつを えらんだ 人数を、ひょうに  
かきましょう。

すきなどうぶつ	ぞう	きりん	パンダ	さる	コアラ	ライオン
人数(人)						

② 人数を、○を つかって、右の  
グラフに あらわしましょう。

③ 人数が 2ばんめに おおい  
どうぶつは どれですか。

また なん人ですか。

( )で( )人

④ きりんが すきな 人は、ぞう  
が すきな 人より なん人  
すくないですか。

( )人 すくない。

すきな どうぶつ

すきな どうぶつ					
ぞう	きりん	パンダ	さる	コアラ	ライオン