

ひきざん① (10まで)	なまえ	
-----------------	-----	--

① 電車に こどもが 9にん のって いました。つぎの えきで 6にん おりました。なんにんに なったでしょうか。


しき



こたえ

② おもちが 8こ あります。2こ やいて たべました。のこりの おもちは なんこでしょうか。

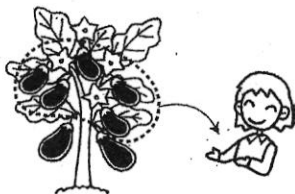
しき



こたえ

③ はたけで なすびが 7こ とれました。そのうち 5こ まゆさんに あげました。のこりは なんこでしょうか。

しき



こたえ

ひきざん② (10まで)	なまえ	
-----------------	-----	--

① おしごとにとんぼが 6ひき いました。2ひき にかがして やりました。のこりの とんぼは なんびきに なったでしょうか。

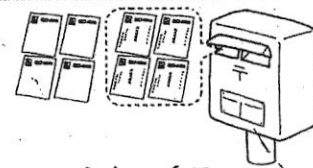
しき



こたえ

② はがきが 8まい ありました。ともだちに 4まい だしました。のこりは なんまいでしょうか。

しき



こたえ

③ おみせに すいかが 10こ ありました。そのうち 6こ うれました。のこりは なんこでしょうか。

しき



こたえ

