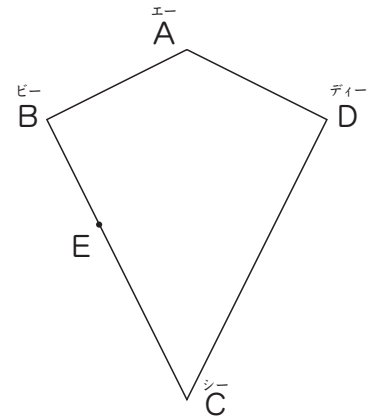


<h1>2</h1>	対称な図形	年 組 番	/ 6問
	<h2>線対称 - 2</h2>	名前	

図 1 右の形は線対称な図形です。

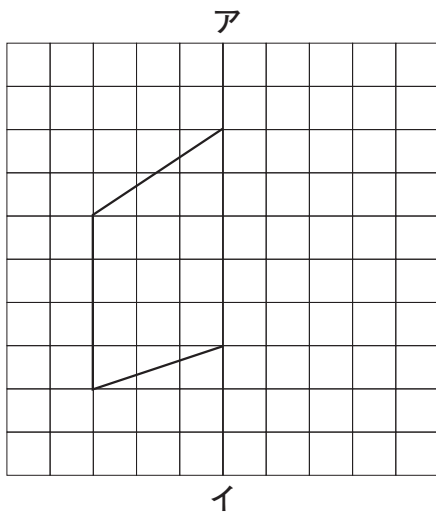
(1) 対称の軸をかき入れましょう。

(2) 点Eに対応する点をかきましよう。

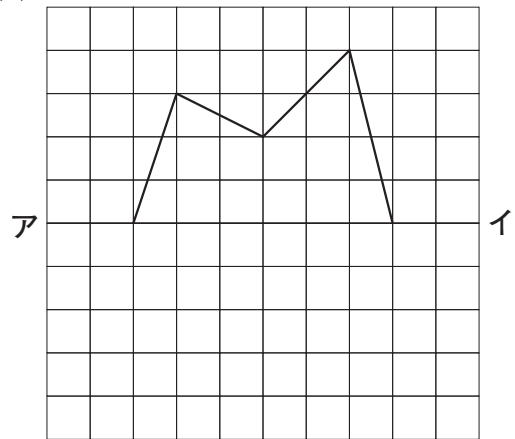


知 2 直線アイが対称の軸となるように、線対称な図形をかきましよう。

(1)



(2)



知 3 直線アイが対称の軸になるように、線対称な図形をかきましよう。

また、できた図形の名前を書きましよう。

