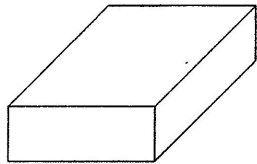


33	直方体と立方体 直方体と立方体	年 組 番 _____	名前 _____
			/ 8問

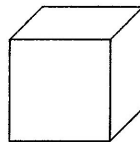
問 1 次の表の①～③にあてはまる形は、下のア～ウのどれですか。記号で書きましょう。

	面の形と数	辺の長さ <small>へん</small> と数
①	同じ長方形が4つと同じ正方形が2つ	同じ長さの辺が4つと8つ
②	同じ正方形が6つ	同じ長さの辺が12
③	同じ長方形2つが3組	同じ長さの辺が4つずつ3組

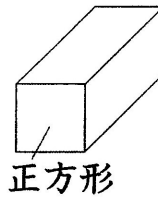
ア 直方体




イ 立方体




ウ 直方体



①



②

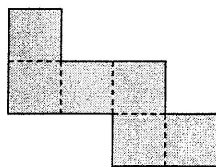


③

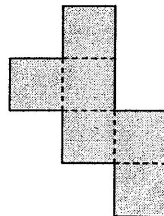


問 2 次の図で、立方体の正しい展開図てんかいずはどれですか。3つえら選び、記号で書きましょう。

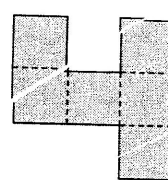
ア



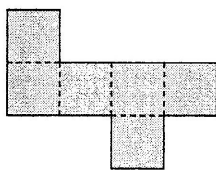
イ



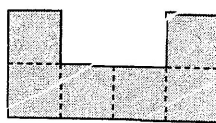
ウ






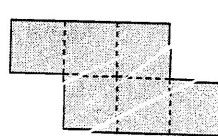
エ



オ




カ



問 3 右の展開図てんかいずを組み立てます。(1)、(2)にあてはまるものを書きましょう。

(1) 点アと重なる点



(2) 辺へんクケと重なる辺

