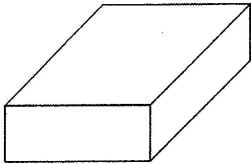


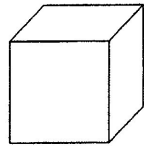
103	直方体と立方体 直方体と立方体 - 1	年 組 番 名前	/ 9問
------------	-------------------------------	-------------	------

① 次の図を見て、にあてはまることばを書きましょう。

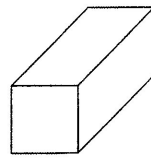
㉞



㉟



㊱



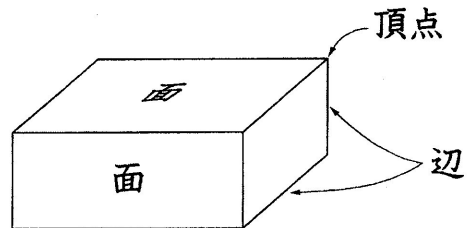
(1) ㉞のように、長方形だけで囲まれた形は、です。

(2) ㉟のように、正方形だけで囲まれた形は、です。

(3) ㊱のように、正方形と長方形で囲まれた形は、です。

② 直方体の面、^{へん}辺、^{ちうてん}頂点の数は、それぞれいくつですか。

面	<input style="width: 100%; height: 30px;" type="text"/>
辺	<input style="width: 100%; height: 30px;" type="text"/>
頂点	<input style="width: 100%; height: 30px;" type="text"/>



③ 立方体の面、^{へん}辺、^{ちうてん}頂点の数は、それぞれいくつですか。

面	<input style="width: 100%; height: 30px;" type="text"/>
辺	<input style="width: 100%; height: 30px;" type="text"/>
頂点	<input style="width: 100%; height: 30px;" type="text"/>

