

<h1>2</h1>	わたしたちの国土	年 組 番
	<h2>世界の中の国土②</h2>	名前

/ 16問

地

右の地図を見て、次の問いに答えなさい。

(1) 地図中のA~Fの国の国旗を、右下のア~カからそれぞれ1つずつ選び、記号で答えなさい。

- A ()
- B ()
- C ()
- D ()
- E ()
- F ()

授業の中で取り扱う予定ですが、様々な考慮があります。

(2) 地図中の□は、外国に占領されている日本の領土です。これらの島々をあわせて何とよんでいますか。

()

地


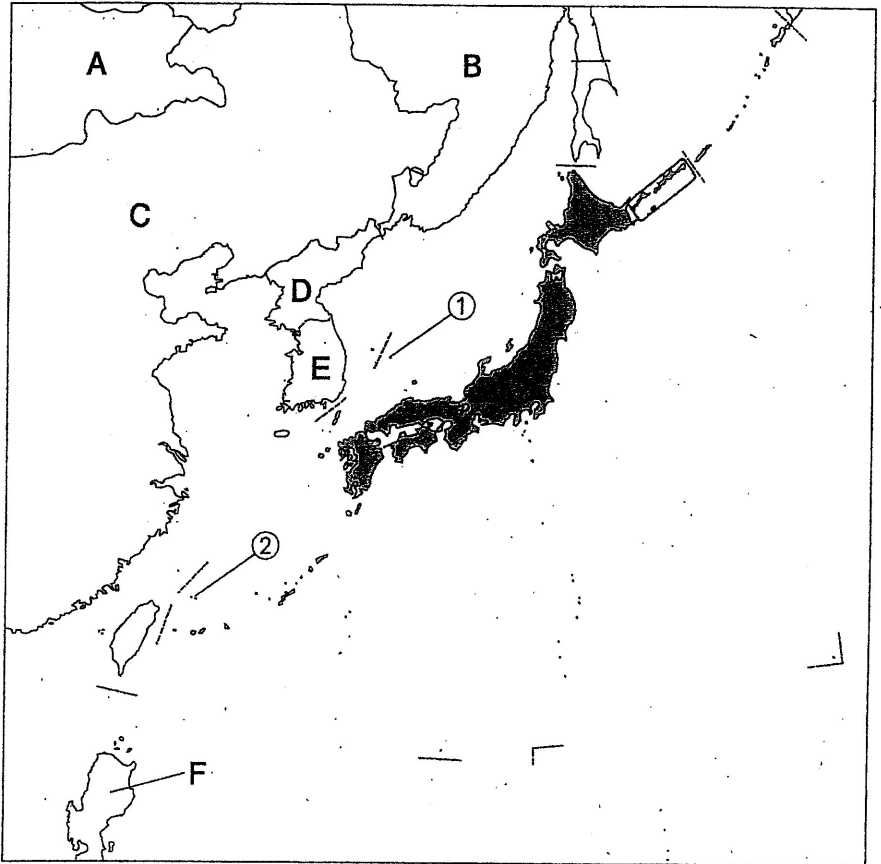
(3) (2)にふくまれる島(群島)に○を、ふくまれない島(群島)に×を、それぞれ選んで答えなさい。

- () 択捉島
- () 礼文島
- () 奥尻島
- () 歯舞群島
- () 色丹島
- () 利尻島
- () 国後島


(4) 地図中の①・②の名前を下の□から選び、記号で答えなさい。

- ① ()
- ② ()


- | | |
|--------|-------|
| ④ 南西諸島 | ① 竹島 |
| ③ 尖閣諸島 | ② 屋久島 |




フィリピン共和国




大韓民国




中華人民共和国



ロシア連邦



朝鮮民主主義人民共和国



モンゴル